

## دنیای جانوران




به نام خدا

نام: .....


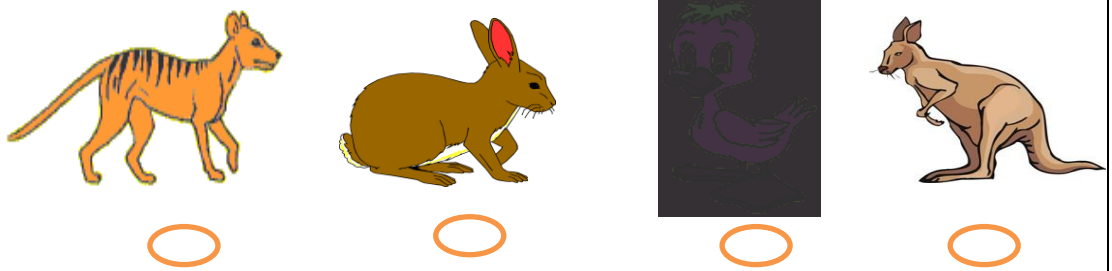


نام خانوادگی: .....

سال تحصیلی

آزمون عملکردی علوم (بخش ۴)

<p>خ</p> <p>خ</p> <p>ق</p> <p>ن</p>	<p>کدام یک از تصاویر زیر جزء موجودات زنده هستند؟ دور آنها خط بکش.</p> 	<p>۱</p>
<p>خ</p> <p>خ</p> <p>ق</p> <p>ن</p>	<p>زندگی کدام یک از موجودات زیر به آب - هوا - غذا بستگی دارد؟</p> 	<p>۲</p>
<p>خ</p> <p>خ</p> <p>ق</p> <p>ن</p>	<p>جانوران گوشت خوار و جانوران گیاه خوار را با یک خط به تصاویر مناسب در قاب وصل کن.</p> 	<p>۳</p>

## دنیای جانوران

خ خ ف ن	دایره مربوط به حیواناتی که می خزند را رنگ کن.	۴
		
خ خ ف ن	دایره مربوط به حیواناتی که می جهند را رنگ کن.	۵
		
خ خ ف ن	فایده های هر جانور را به تصویر آن وصل کن.	۶
		
		
خ خ ف ن	دایره مربوط به جانورانی که به ما آسیب می رساند را رنگ کن.	۷
	